



LAS PRUEBAS SABER 11° REQUIEREN DESARROLLAR EL CALCULO MENTAL

Las Pruebas Saber requieren desarrollar la capacidad de realizar operaciones matemáticas de forma rápida y precisa, para ello puedes acostumbrarte a hacer aproximaciones, realiza este proceso todos los días.

LAS GRÁFICAS

Las gráficas las vas a encontrar en cualquier asignatura (no solo en Matemáticas), por eso la importancia de aprender a estudiarlas.

Cuando te presenten una gráfica es importante identificar los siguientes elementos:

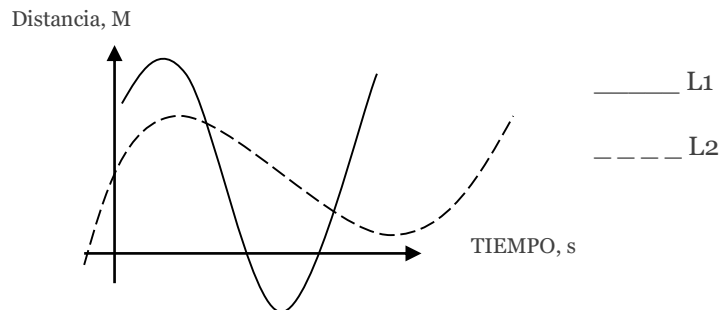
1. Nombre de la variable de cada eje y unidad de medida.
2. Valor en el eje X donde Y es: cero, alcanza el valor máximo, alcanza el valor mínimo.
3. Valor en el eje Y donde X es cero.
4. Forma de la gráfica: recta, curva, barras, histogramas o gráficos circulares.
5. Determine si las magnitudes son: proporcionales, directamente proporcionales o inversamente proporcionales.
6. Observe si se presentan recuadros que amplíen la información.

CASA EDITORIAL



INVESTIGACIONES EDUCATIVAS

Para las siguientes gráficas determine lo indicado en los seis pasos anteriores:



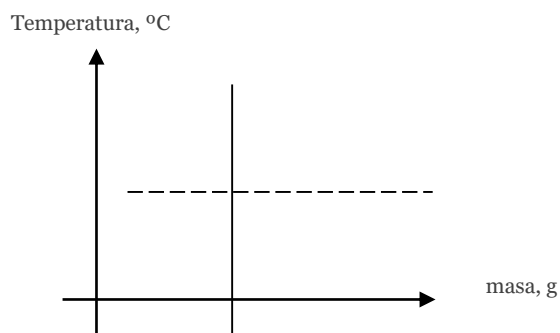
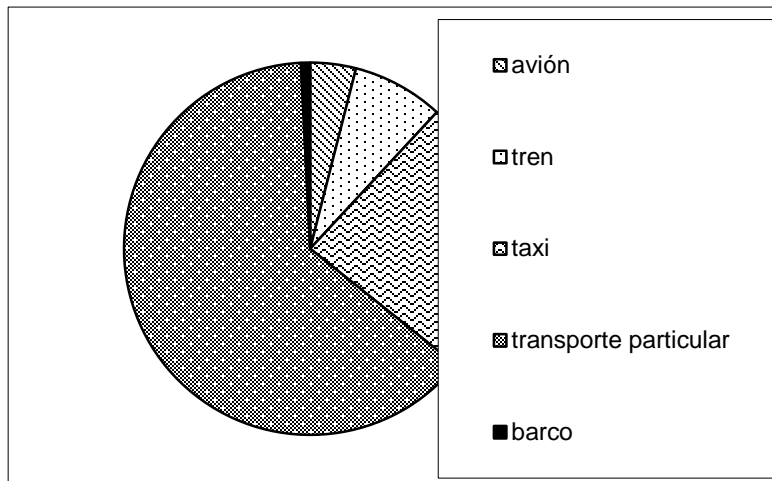
Nuestros productos y servicios:

LIBRO



Libro con los temas que salen en las Pruebas Saber. Pídelo al 3113401486, despacho a toda Colombia.

Ingresa al facebook de 100trucoficfes.



Proponga los valores para los ejes o sectores circulares, con coherencia

www.preicfesqiq.com

www.qiqinvestigacioneseducativas.com